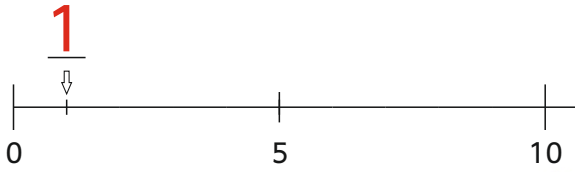


Zahlen am Zahlenstrahl im ZR 100

(nur 5er- und 10er-Markierung)



www.mathemonsterchen.de



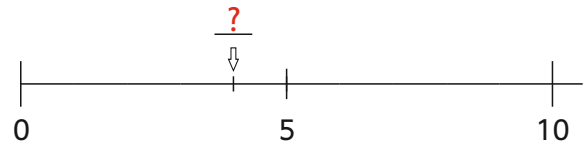
Wie heißt die Zahl ?



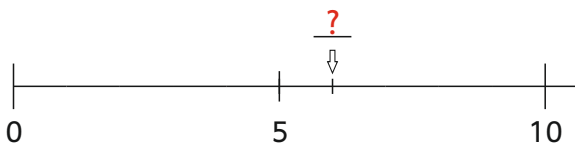
Wie heißt die Zahl ?



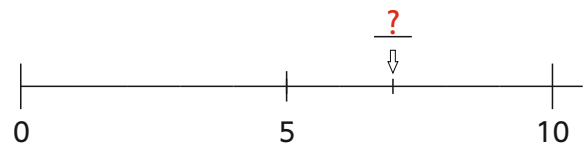
Wie heißt die Zahl ?



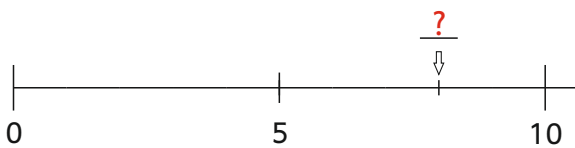
Wie heißt die Zahl ?



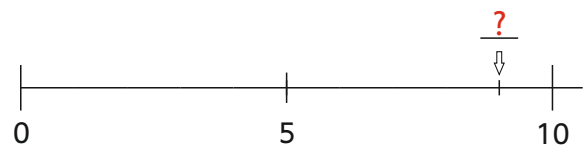
Wie heißt die Zahl ?



Wie heißt die Zahl ?



Wie heißt die Zahl ?



2

4

7

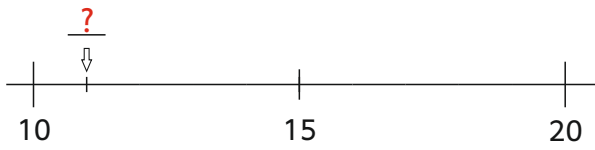
9

3

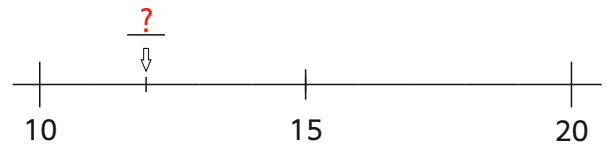
6

8

Wie heißt die Zahl ?



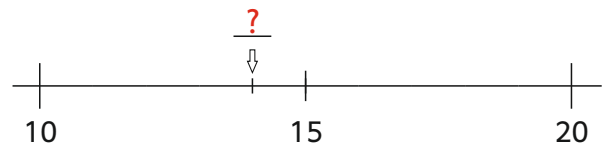
Wie heißt die Zahl ?



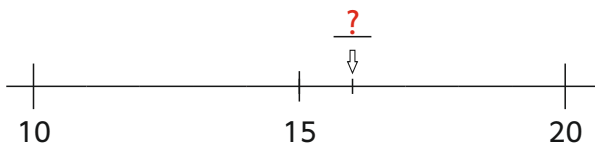
Wie heißt die Zahl ?



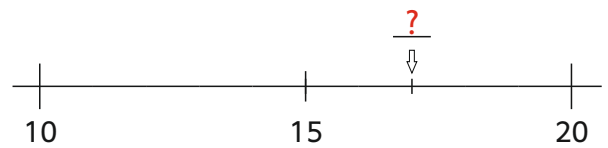
Wie heißt die Zahl ?



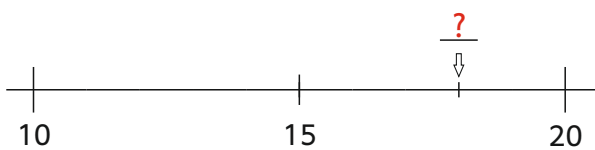
Wie heißt die Zahl ?



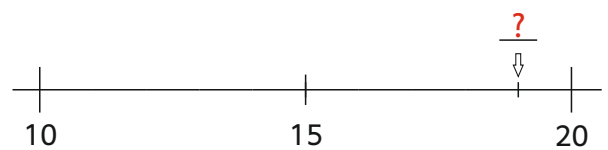
Wie heißt die Zahl ?



Wie heißt die Zahl ?



Wie heißt die Zahl ?



12

11

14

13

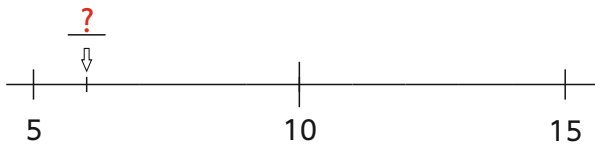
17

16

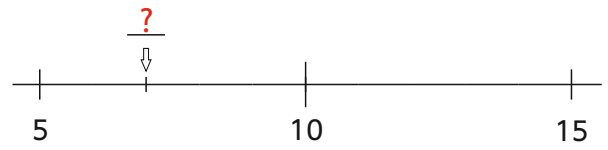
19

18

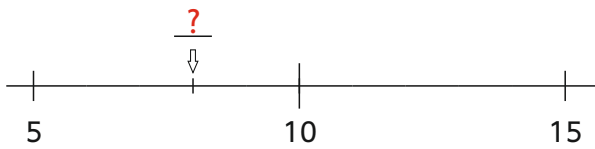
Wie heißt die Zahl ?



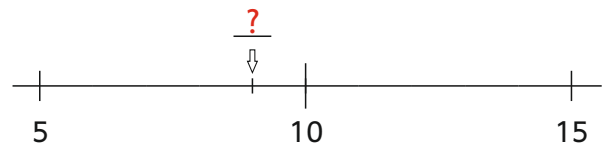
Wie heißt die Zahl ?



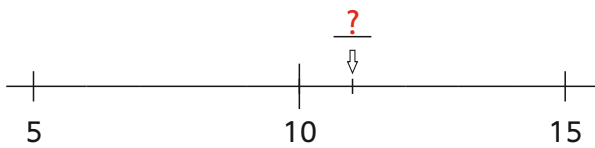
Wie heißt die Zahl ?



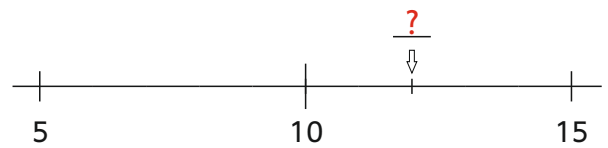
Wie heißt die Zahl ?



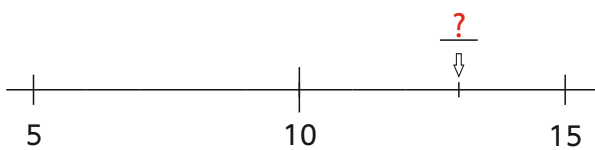
Wie heißt die Zahl ?



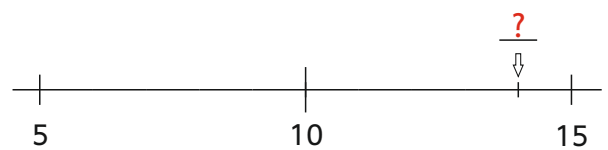
Wie heißt die Zahl ?



Wie heißt die Zahl ?



Wie heißt die Zahl ?



7

6

9

8

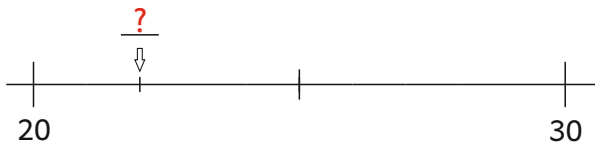
12

11

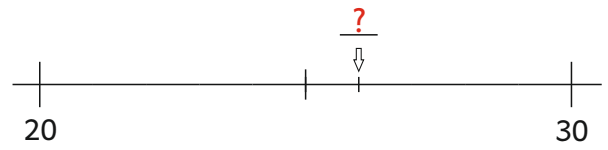
14

13

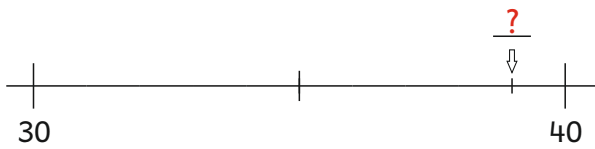
Wie heißt die Zahl ?



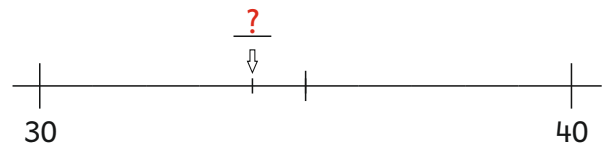
Wie heißt die Zahl ?



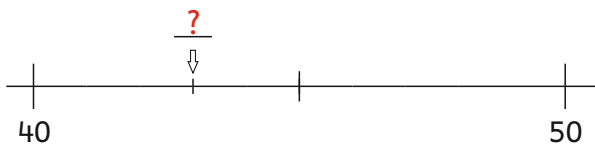
Wie heißt die Zahl ?



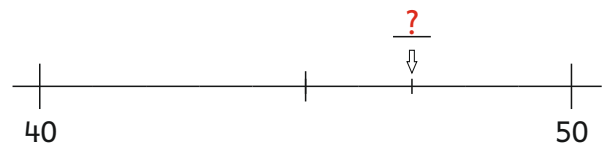
Wie heißt die Zahl ?



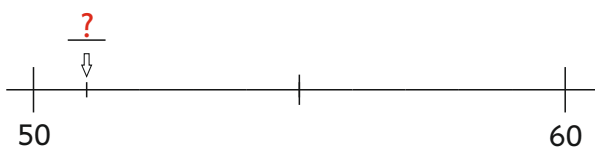
Wie heißt die Zahl ?



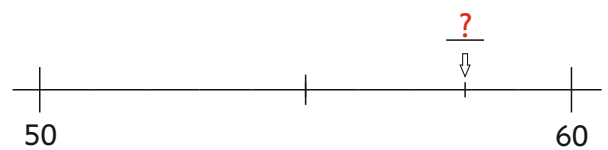
Wie heißt die Zahl ?



Wie heißt die Zahl ?



Wie heißt die Zahl ?



26

22

34

39

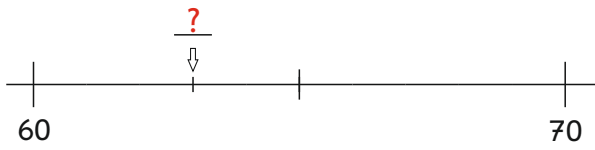
47

43

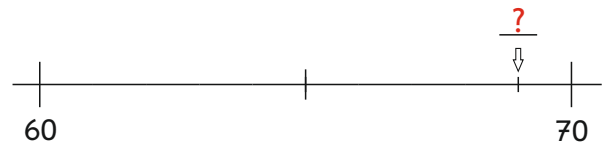
58

51

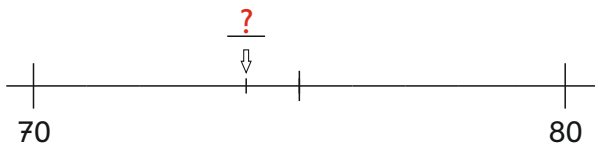
Wie heißt die Zahl ?



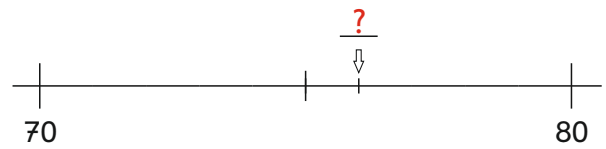
Wie heißt die Zahl ?



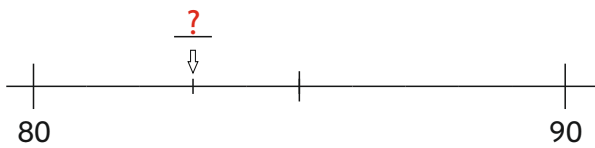
Wie heißt die Zahl ?



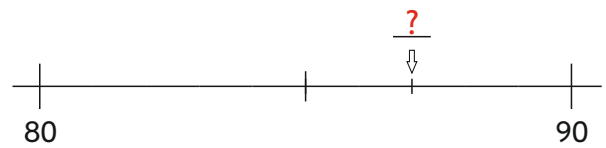
Wie heißt die Zahl ?



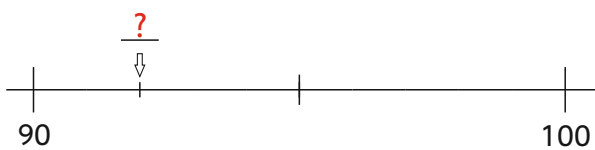
Wie heißt die Zahl ?



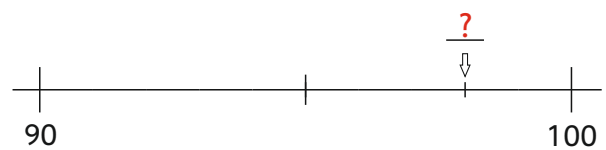
Wie heißt die Zahl ?



Wie heißt die Zahl ?



Wie heißt die Zahl ?



69

63

76

74

82

83

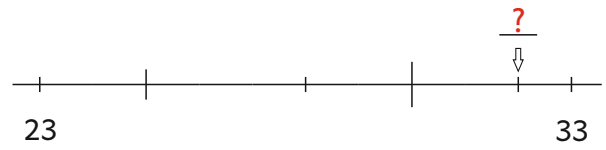
98

92

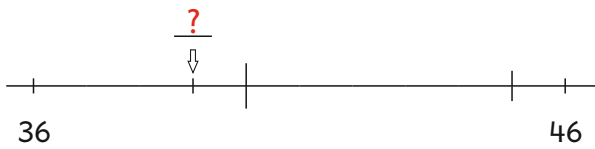
Wie heißt die Zahl ?



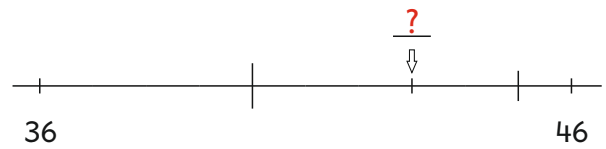
Wie heißt die Zahl ?



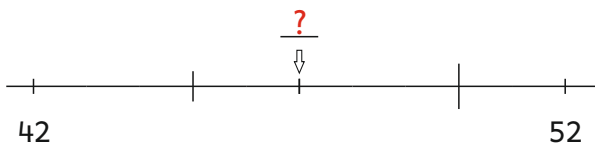
Wie heißt die Zahl ?



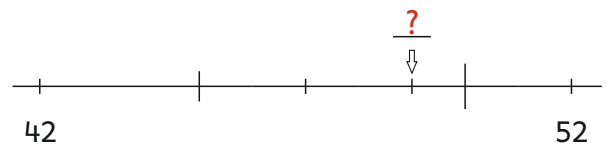
Wie heißt die Zahl ?



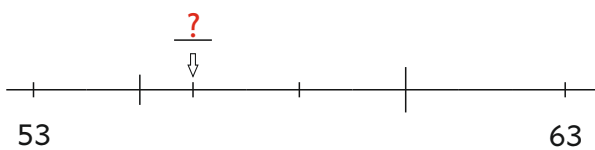
Wie heißt die Zahl ?



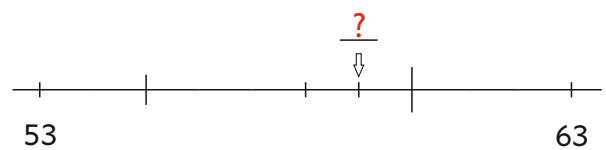
Wie heißt die Zahl ?



Wie heißt die Zahl ?



Wie heißt die Zahl ?



32

26

43

39

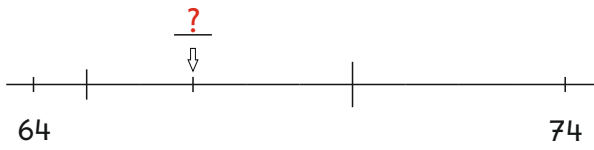
49

47

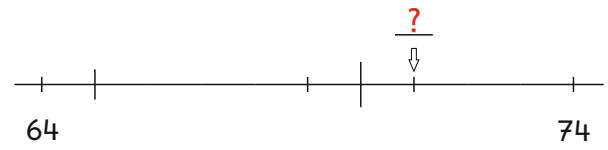
59

56

Wie heißt die Zahl ?



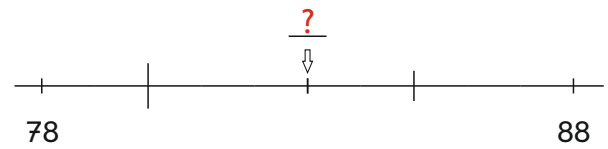
Wie heißt die Zahl ?



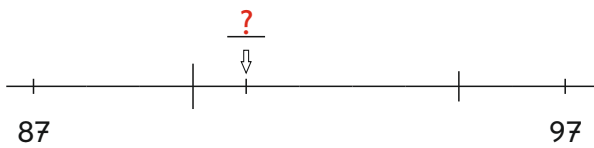
Wie heißt die Zahl ?



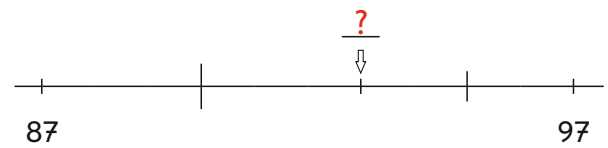
Wie heißt die Zahl ?



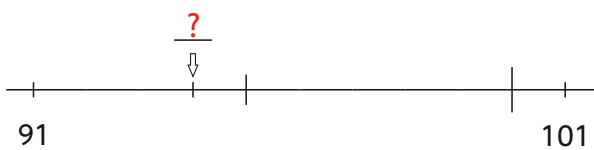
Wie heißt die Zahl ?



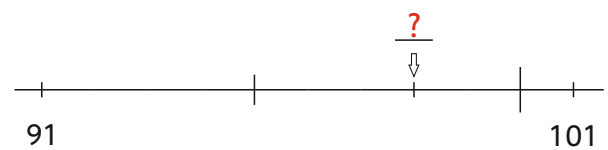
Wie heißt die Zahl ?



Wie heißt die Zahl ?



Wie heißt die Zahl ?



71

67

83

79

93

91

98

94