





Von den 5 Zahlen auf jeder Karte gehören 4 zu einer 1x1-Reihe. Welche Zahl passt nicht? Streiche sie durch.



www.mathemonsterchen.de




Welche Zahl passt nicht zu den anderen?



www.mathemonsterchen.de




Welche Zahl passt nicht zu den anderen?



www.mathemonsterchen.de




Welche Zahl passt nicht zu den anderen?



www.mathemonsterchen.de




Welche Zahl passt nicht zu den anderen?



www.mathemonsterchen.de




Welche Zahl passt nicht zu den anderen?



www.mathemonsterchen.de




Welche Zahl passt nicht zu den anderen?



www.mathemonsterchen.de



Welche Zahl passt nicht zu den anderen?



www.mathemonsterchen.de

7

11

15

29


34

46

61




Welche Zahl passt nicht zu den anderen ?



www.mathemonsterchen.de




Welche Zahl passt nicht zu den anderen ?



www.mathemonsterchen.de




Welche Zahl passt nicht zu den anderen ?



www.mathemonsterchen.de




Welche Zahl passt nicht zu den anderen ?



www.mathemonsterchen.de




Welche Zahl passt nicht zu den anderen ?



www.mathemonsterchen.de




Welche Zahl passt nicht zu den anderen ?



www.mathemonsterchen.de




Welche Zahl passt nicht zu den anderen ?



www.mathemonsterchen.de



Welche Zahl passt nicht zu den anderen ?



www.mathemonsterchen.de

16

14

22

19

27


9

30

26




Welche Zahl passt nicht zu den anderen ?



www.mathemonsterchen.de




Welche Zahl passt nicht zu den anderen ?



www.mathemonsterchen.de




Welche Zahl passt nicht zu den anderen ?



www.mathemonsterchen.de




Welche Zahl passt nicht zu den anderen ?



www.mathemonsterchen.de




Welche Zahl passt nicht zu den anderen ?



www.mathemonsterchen.de




Welche Zahl passt nicht zu den anderen ?



www.mathemonsterchen.de




Welche Zahl passt nicht zu den anderen ?



www.mathemonsterchen.de



Welche Zahl passt nicht zu den anderen ?



www.mathemonsterchen.de

336

24

17

18

26


34

49

32




Welche Zahl passt nicht zu den anderen ?



www.mathemonsterchen.de




Welche Zahl passt nicht zu den anderen ?



www.mathemonsterchen.de




Welche Zahl passt nicht zu den anderen ?



www.mathemonsterchen.de




Welche Zahl passt nicht zu den anderen ?



www.mathemonsterchen.de




Welche Zahl passt nicht zu den anderen ?



www.mathemonsterchen.de




Welche Zahl passt nicht zu den anderen ?



www.mathemonsterchen.de




Welche Zahl passt nicht zu den anderen ?



www.mathemonsterchen.de



Welche Zahl passt nicht zu den anderen ?



www.mathemonsterchen.de

24

18

32

48

35

26

52

43